

NUMELE

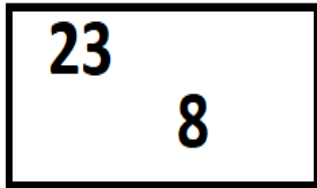
DATA

--	--	--	--	--	--	--	--	--	--	--

FIȘĂ DE LUCRU

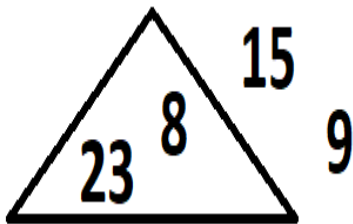
<table border="1"><tr><td>12</td></tr><tr><td>7</td></tr><tr><td>26</td></tr><tr><td>13</td></tr><tr><td>31</td></tr></table> <table border="1"><tr><td>5</td><td>13</td></tr><tr><td>22</td><td>28</td></tr><tr><td>1</td><td></td></tr></table> 15 <table border="1"><tr><td>12</td></tr><tr><td>24</td></tr></table> 18	12	7	26	13	31	5	13	22	28	1		12	24	<p>1. ORDONEAZĂ CRESCĂTOR NUMERELE DIN DREPTUNGHII</p> <hr/>
12														
7														
26														
13														
31														
5	13													
22	28													
1														
12														
24														
<p>3. DESENEAZĂ UN TRIUNGHI</p>	<p>2. ORDONEAZĂ DESCRESCĂTOR NUMERELE DIN PĂTRAT</p> <hr/>													
<p>4. AFLĂ SUMA NUMERELOR DIN CERC ȘI DIFERENȚA NUMERELOR DIN AFARA FIGURILOR GEOMETRICE</p>														

5. AFLĂ **SUMA** NUMERELOR DIN **DREPTUNGHI** ȘI **DIFERENȚA** NUMERELOR DIN AFARA DREPTUNGHIULUI

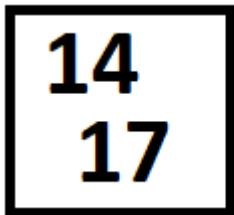


30
17

6. AFLĂ **SUMA** NUMERELOR DIN AFARA TRIUNGHIULUI ȘI **DIFERENȚA** NUMERELOR DIN TRIUNGHI



7. AFLĂ **SUMA** NUMERELOR DIN **PĂTRAT** ȘI **DIFERENȚA** NUMERELOR DIN AFARA PĂTRATULUI



15
8

BRAVO! AI TERMINAT!